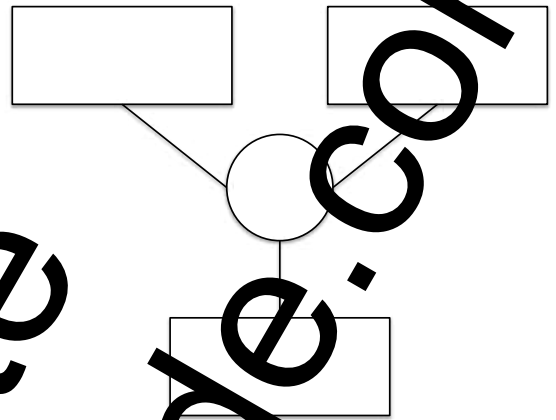


Löse mit den Rechenbäumen die folgenden Aufgaben!

Aufgabe 1

Max kauft im Lädchen Süßigkeiten für 4 € 85 Ct.
Am Kiosk kauft er noch ein Comic-Heft für 2,90 €.
Wie viel hat Max ausgegeben?

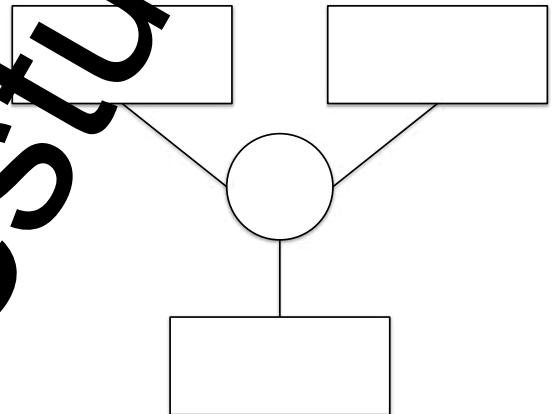
Antwort: _____



Aufgabe 2

Petra kauft 7 kg Kartoffeln bei einem Preis von 1,95 €
pro Kilogramm. Wie viel bezahlt sie?

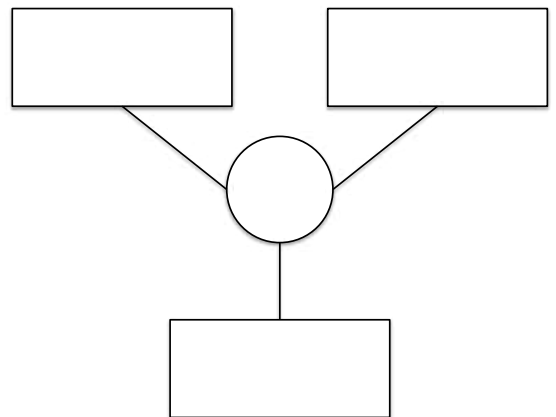
Antwort: _____



Aufgabe 3

In der Klassenkasse sind am Ende des Schuljahres 35 €
übrig. Dieses Geld soll an die 20 Kinder zu gleichen
Teilen zurückgegeben werden. Wie viel Geld bekommt
jedes Kind?

Antwort: _____



www.mathestunde.com