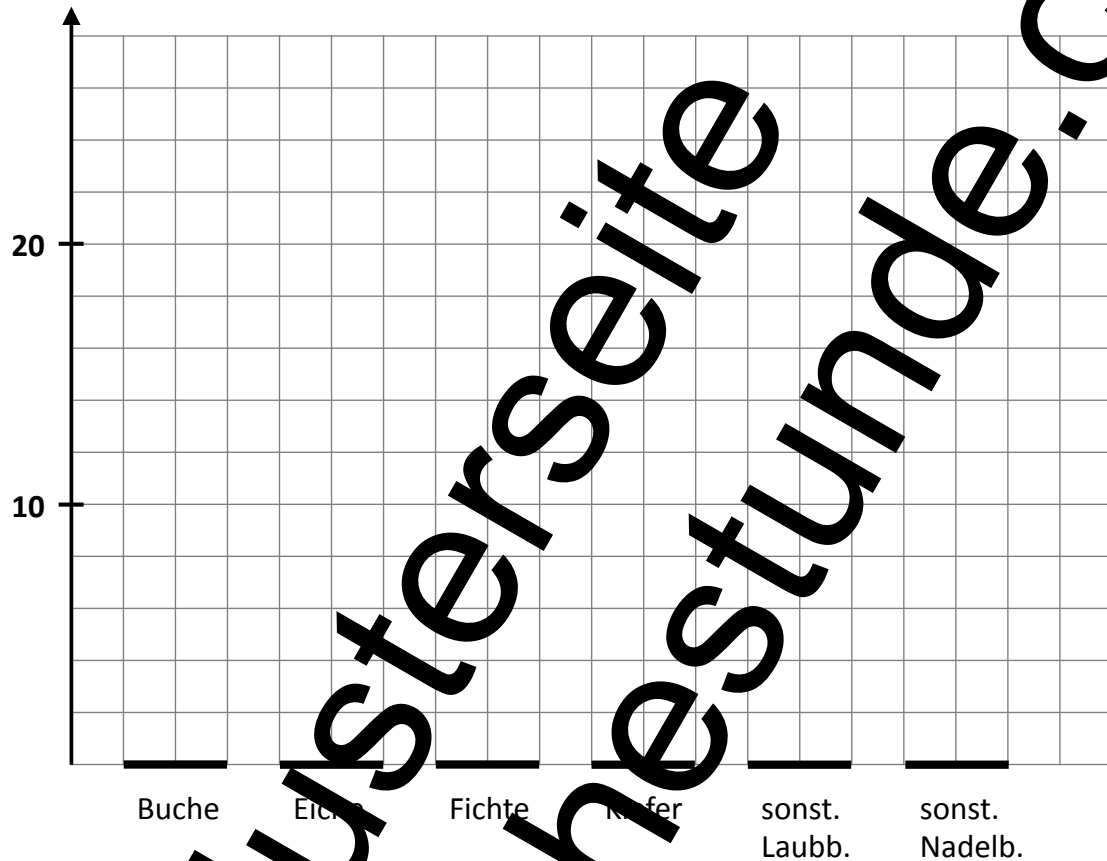


Bäume in Deutschland

Von 100 Bäumen in Deutschland sind 16 Buchen, 10 Eichen, 26 Fichten, 24 Kiefern, 8 andere Nadelbäume, 16 andere Laubbäume. Zeichne ein Säulendiagramm.

Anzahl von 100 Bäumen










Einwohnerzahlen in den Bundesländern



In dem Bilddiagramm sind die Einwohnerzahlen von einigen Bundesländern dargestellt. Ein großes Männlein steht für 10 Millionen Einwohner, ein kleines Männlein für 1 Million Einwohner.

Lies die Zahl der Einwohner ab und trage die Zahlen in den Feldern ein.

Tipp:

Die Zahlen sind immer auf volle Millionen gerundet!

Bundesland	Einwohnerzahl in Mio.
Nordrhein-Westfalen	 <input type="text"/>
Bayern	 <input type="text"/>
Baden-Württemberg	 <input type="text"/>
Hessen	 <input type="text"/>
Niedersachsen	 <input type="text"/>
Sachsen	 <input type="text"/>
Saarland	 <input type="text"/>

	10 Millionen
	1 Million