



3. Aufgabe

Zeichne mit dem Lineal oder Geodreieck geeignete Skalenstriche ein und beschrifte sie, um folgende Bereiche darzustellen!


a) Der Bereich von 0 bis 1000




b) Der Bereich von 200 bis 400



c) Der Bereich von 100 bis 600



d) Der Bereich von 0 bis 12000



4. Aufgabe

Zeichne die folgenden Zahlenpunkte jeweils auf einem Zahlenstrahl ein. Skaliere den Zahlenstrahl dazu geeignet.

a) 10, 30, 70, 100

b) 300, 600, 900

c) 250, 450, 600

