

Mathestunde 4

Übungsaufgaben

Klasse 4/5

Das musst du können!

Mathematik Übungsheft
für die 4./5. Klasse

Dieses Heft gehört: _____

Mathestunde 4 - Übungsaufgaben Klasse 4/5 Das musst du können!

Mathematik Übungsheft für die 4. und 5. Klasse

ISBN: 978-3-941868-18-2
Autor: Jörg Christmann
Verlag: Mathefritz Verlag Jörg Christmann
Pfaffenkopfstr. 21E
66125 Saarbrücken
E-Mail: verlag@mathefritz.de
Internet: www.mathestunde.com / www.mathefritz.de

Weitere Informationen zu diesem Heft und dem Thema „Einstieg in Klasse 5“
findest du im Internet unter: www.mathestunde.com/einstieg-klasse-5

Schriftliche Addition

Addiere die Zahlen und trage den Übertrag ein!

			9	3	0	5	1	5	6	1	8	9	4	7	3	3	1	2					
+	5	3	2	0	9	7	+	7	0	7	4	3	6	+	4	8	2	9	5				
_____			_____			_____			_____			_____			_____			_____			_____		
	2	6	3	8	9	9	1	1	7	6	1	5	7	6	2	1	9						
	7	3	5	3	2	8	3	3	3	3	2	8	4	2	0	1	7	7					
+	1	4	2	0	3	+	2	7	8	0	4	1	+	6	0	4	7	0	2				
_____			_____			_____			_____			_____			_____			_____			_____		
		4	5	4	4	2					4	8	9	3	1	9	9	2	0	4			
		7	8	4	4	3	4	0	7	3	6	5	4	1	3	7	7						
		3	1	3	4	8					8	9	9	1	8	3	5	3	2	8			
+	1	0	1	8	7	+	7	2	0	2	+	3	3	1	9	0	3						
_____			_____			_____			_____			_____			_____			_____			_____		

Finde die fehlenden Zahlen!

																		9	5	2	6	
			3	8	5	5	5	7	7									4	7	3	3	2
+	5	7	9	7	+	2	3	1	4	6	+	1	2	9	5							
			4	1	3							6	1	4				4	1	3		
																			3	5	5	
		1	5	2	8	7	1	5	4									1	7	1	3	
+										+			4	3	5	+	9	6	7	8		
	2	3	3	4	3	5	3	1	0	2	0	2	9	5	3	3	3	3				

Schriftliche Addition

Addition von 2 Zahlen in einer Reihe – Berechne!

$128 + 982 = \underline{\hspace{2cm}}$

$2015 + 111 = \underline{\hspace{2cm}}$

$93 + 1127 = \underline{\hspace{2cm}}$

$9011 + 78 = \underline{\hspace{2cm}}$

$766 + 354 = \underline{\hspace{2cm}}$

$12392 + 355 = \underline{\hspace{2cm}}$

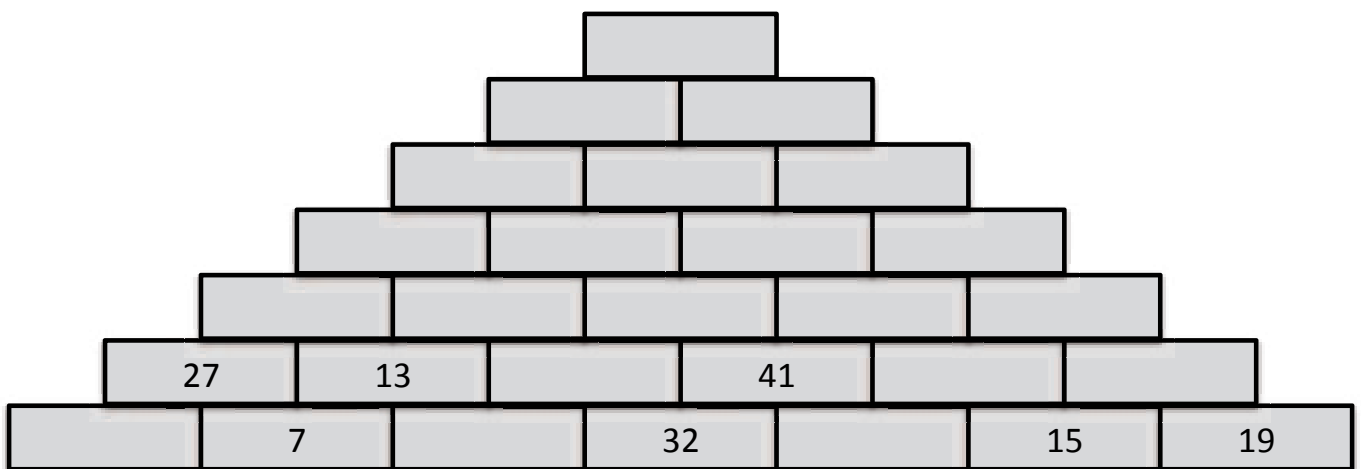
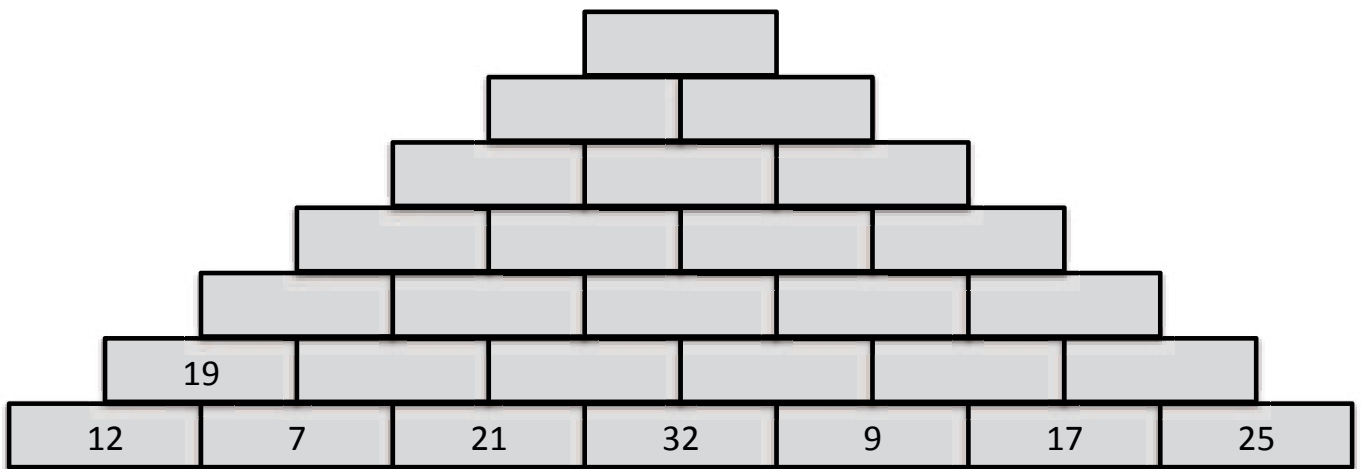
$\underline{\hspace{2cm}} + 333 = 920$

$3072 + \underline{\hspace{2cm}} = 5001$

$1109 + \underline{\hspace{2cm}} = 3993$

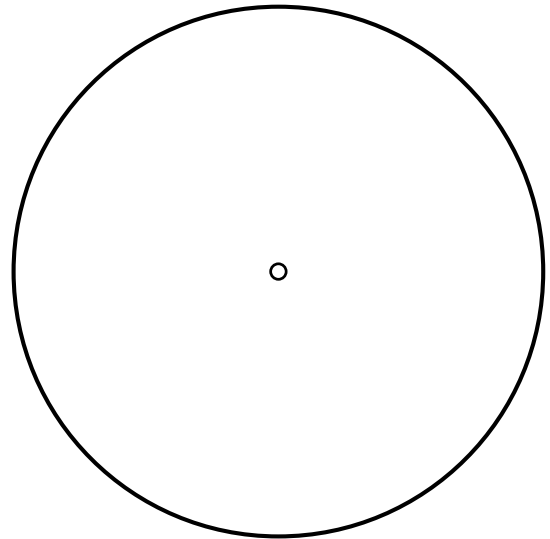
$\underline{\hspace{2cm}} + 294 = 4882$

Rechenpyramiden – Addiere nach oben!



Geometrie - Kreis

- Markiere in dem Kreis den Mittelpunkt rot!
- Zeichne den Kreis blau!
- Zeichne einen Durchmesser grün!
- Zeichne den Radius gelb ein!



Zeichne die Kreise mit dem Mittelpunkt M!

Radius $r = 2 \text{ cm}$

Durchmesser $d = \underline{\hspace{2cm}}$

x
M

Radius $r = 4 \text{ cm}$

Durchmesser $d = \underline{\hspace{2cm}}$

x
M

Radius $r = \underline{\hspace{2cm}}$

Durchmesser $d = 6 \text{ cm}$

x
M