

Das Einmaleins mit 2

Kreise immer 2 Schuhe ein!



Wie viele Paar Schuhe sind abgebildet? Rechne die Aufgabe!

$$2 + _ + _ = _ \cdot 2 = _$$

Zähle nur die Beine des Hahns!



$$1 \cdot 2 = _$$



$$_ \cdot 2 = _$$



$$_ \cdot 2 = _$$



$$_ \cdot 2 = _$$



$$_ \cdot 2 = _$$



$$_ \cdot 2 = _$$



$$_ \cdot 2 = _$$




$$_ \cdot 2 = _$$




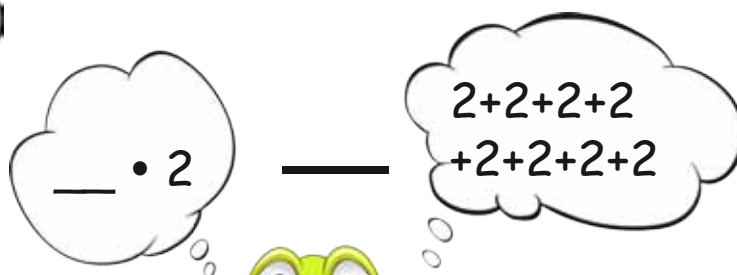
$$_ \cdot 2 = _$$



$$_ \cdot 2 = 20$$



Wie viele Pfirsiche sind abgebildet? Kreise immer **2** ein!
Schreibe die Aufgabe auf und rechne aus!



Übung: Das Einmaleins mit **2**

	2	•	2	=					•	2	=		6
	8	•	2	=					•	2	=		4
	9	•	2	=					•	2	=		8
1	0	•	2	=					•	2	=	1	0
	5	•	2	=					•	2	=		2
	7	•	2	=					•	2	=	1	2
	1	•	2	=					•	2	=	1	6
	4	•	2	=					•	2	=	1	4
	6	•	2	=					•	2	=	1	8
	3	•	2	=					•	2	=	2	0

